

2025年度 学力検査

「歴史総合，日本史探究」

解答番号  ～

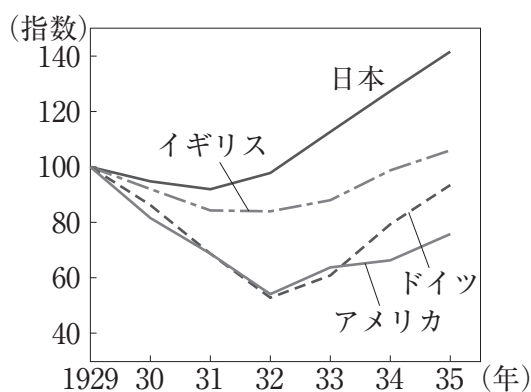
【1】 マコトさんのクラスでは、「歴史総合」の授業で、第二次世界大戦前後の世界や日本の動向について、それぞれ主題を設定して探究することになった。その学習活動に関する次のⅠ～Ⅲを読んで、あとの各問いに答えなさい。（配点 30 点）

Ⅰ 授業の中で、第二次世界大戦が起こった背景として世界恐慌に注目する必要があるという話を聞いたマコトさんは、「世界恐慌での各国の状況や対応」をテーマとして学習活動を行った。マコトさんは自分の調べた結果や考察などについて、同じ班のナナミさん・ヒロミさんと話し合った。

AD1

### 資料 1

○世界恐慌中の主要国鉱工業生産指数の推移（1929 年を 100 とする）



『明治以降本邦主要経済統計』より

マコト：世界恐慌が与えた影響を考えるための材料としてグラフ（資料 1）を持ってきたんだけど、まずこのグラフからどんなことが読み取れるかな。

ナナミ：  と  の落ち込みが大きいね。  はそれまで繁栄していたから反動が大きかったんじゃないかな。  は  に経済的に依存していたから影響が大きかったんだろうね。

ヒロミ：日本はこの時期、世界恐慌や  の影響で昭和恐慌に陥って不景気のどん底に沈んでしまったというイメージを持っていたけど、他の国のほうがもっとひどかったんだね。

ナナミ：日本は恐慌からの回復が他国より早かったということは前に学習したことが<sup>(1)</sup>あったけど、そのことが読み取れるね。

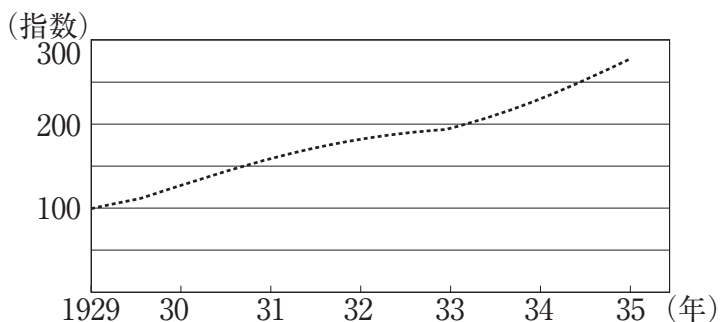
マコト：世界恐慌が起こる前までは、第一次世界大戦に対する反省から、国際協調体制<sup>(2)</sup>が維持されていたけど、恐慌後にはどの国も、世界全体のことより自分の国を優先するようになっていくんだよ。植民地をたくさん持っている国がブロック経済政策を採用するなど、世界各国が自国の経済を守るためにとった保護主義的な政策が経済的な対立を加速させ、第二次世界大戦の一つの背景<sup>(3)</sup>になったという議論があるんだけど、今回調べてみて、まさにそうだと思うたね。

AD1

問1 会話文中の  ～  に入る語句の組み合わせとして正しいものを、次の①～④の中から一つ選びなさい。解答番号は、。

- ① A － アメリカ  
B － ドイツ  
C － 金輸出解禁
- ② A － アメリカ  
B － ドイツ  
C － 金輸出再禁止
- ③ A － ドイツ  
B － アメリカ  
C － 金輸出解禁
- ④ A － ドイツ  
B － アメリカ  
C － 金輸出再禁止

問2 下線部(1)について、実際には恐慌の影響をほとんど受けず生産を伸ばした国もあった。次のグラフは資料1と同じ時期の別の国のデータ（1929年を100とする）を示したものである。これに該当する国X・Yと、この国が鉱工業生産を伸ばした要因a～cの組み合わせとして正しいものを、下の①～⑥の中から一つ選びなさい。解答番号は、2。



『明治以降本邦主要経済統計』より

X 中国（中華民国）      Y ソ連（ソヴィエト社会主義共和国連邦）

a 五カ年計画の実施      b ドイモイの実施      c ペレストロイカの実施

- ① X - a      ② X - b      ③ X - c  
 ④ Y - a      ⑤ Y - b      ⑥ Y - c

問3 下線部(2)に関連して、第一次世界大戦後に構築された国際協調体制について述べた次の文XとYの正誤の組み合わせとして正しいものを、下の①～④の中から一つ選びなさい。解答番号は、3。

X 国際平和機構として国際連盟が設立され、本部がニューヨークに置かれた。

Y フランスとアメリカ合衆国の提唱で、国際紛争解決の手段としての戦争を放棄することを約した不戦条約が締結された。

- ① X - 正 Y - 正      ② X - 正 Y - 誤  
③ X - 誤 Y - 正      ④ X - 誤 Y - 誤

問4 下線部(3)に対する反省から、第二次世界大戦後には安定的な国際通貨体制をつくり世界経済を発展させることを目指す体制が構築されていった。このことに関連する次の語句X・Yと、それぞれについて述べた文a～dの組み合わせとして正しいものを、下の①～④の中から一つ選びなさい。解答番号は、4。

X 金ドル本位制（ブレトン=ウッズ体制）

Y 関税及び貿易に関する一般協定（GATT）

- a 金との交換率が固定されたドルを基軸通貨とし、ドルと各国通貨の交換比率を固定した。  
b この体制は、1990年代にアメリカが金とドルの交換を停止したことで崩壊した。  
c 国際収支が悪化した国を支援することなどを、主な目的としていた。  
d 日本は独立回復後の1950年代に加盟した。

- ① X - a Y - c      ② X - a Y - d  
③ X - b Y - c      ④ X - b Y - d

II ナナミさんは、第二次世界大戦について学習する中で、戦争の枠組みや戦局が途中で転換したことに注目した。そこで、「第二次世界大戦の転換点」をテーマに、転換する契機となった出来事などについて考えるために、年表を作成した。

年表

ヨーロッパの動向	年	アジアの動向
ドイツ、ポーランドに侵攻	1939	
ア	1940	エ
独ソ戦開始 (4)	1941	太平洋戦争開戦
イ	1942	オ ミッドウェー海戦
スターリングラードの戦い	1943	カ
ウ	1944	サイパン島陥落 (5)
ドイツ降伏	1945	キ 日本降伏

AD1

問5 ナナミさんが年表にあげた出来事以外に、ヨーロッパの動向の転換点の候補として考えた次の二つの出来事X・Yと、その出来事の年表中の時期  ～  の組み合わせとして正しいものを、下の①～④の中から一つ選びなさい。解答番号は、。

X パリ陥落（フランス降伏） Y 連合軍ノルマンディー上陸

- ① X - ア Y - イ      ② X - ア Y - ウ  
③ X - イ Y - イ      ④ X - イ Y - ウ

問6 年表中の  ～  の時期における日本国内の動向に関して述べた文として誤っているものを、次の①～④の中から一つ選びなさい。すべて正しい場合は⑤をマークしなさい。解答番号は、。

- ①  の時期には、大政翼賛会が発足した。  
②  の時期には、治安維持法が制定された。  
③  の時期には、大東亜会議が開催された。  
④  の時期には、東京大空襲で甚大な被害を被った。

問7 下線部(4)について、独ソ戦が始まる前に日本とソ連の間で結ばれた日ソ中立条約に調印した日本の外務大臣と、当時のソ連の最高権力者の組み合わせとして正しいものを、次の①～④の中から一つ選びなさい。解答番号は、。

- ① 幣原喜重郎 - レーニン      ② 幣原喜重郎 - スターリン  
③ 松岡洋右 - レーニン      ④ 松岡洋右 - スターリン

問8 下線部(5)について、サイパン島は日本の委任統治下にあった南洋諸島に属していたが、南洋諸島の一部を日本が占領した戦争と、その地域が日本の委任統治領となった条約の組み合わせとして正しいものを、次の①～④の中から一つ選びなさい。

解答番号は、8。

- ① 日露戦争            — 四カ国条約
- ② 日露戦争            — ヴェルサイユ条約
- ③ 第一次世界大戦 — 四カ国条約
- ④ 第一次世界大戦 — ヴェルサイユ条約

Ⅲ ヒロミさんは、国内総生産（GDP）で日本がドイツに抜かれたというニュースを聞き、「第二次世界大戦に敗れたドイツと日本は、戦後どのような状況に置かれたか」に興味を持ち、調べることにした。

ヒロミさんのまとめ

第二次世界大戦の敗戦国であるドイツと日本は、大戦後、連合国に占領され、民主化や非軍事化をはかる占領政策のもとで改革が行われた。しかし、資本主義陣営と社会主義陣営の対立が強まる中で、ドイツでは国家の分断が固定化し、日本では占領政策が変更されていった。日本は、変更された路線を歩みつつ独立を回復し、今日に至るまでアジアにおけるアメリカ合衆国の友好国として歩んできた。一方、ドイツは40年にわたる分断を経て統一され、ヨーロッパの中心的国家として発展した。

問9 下線部(6)に関連して、ドイツと日本それぞれの占領方式などについて述べた次の文 a～dのうち、正しいものの組み合わせを、下の①～④の中から一つ選びなさい。解答番号は、

- a ドイツは、西側をアメリカに、東側をソ連に分割占領された。
- b ドイツは、連合国側の直接統治のもとに置かれた。
- c 日本の占領は、事実上、アメリカ軍による単独占領であった。
- d 日本の統治には、対日理事会の指令・勧告にもとづいて日本政府が政治を行う間接統治の方法がとられた。

- ① a・c      ② a・d      ③ b・c      ④ b・d

問10 下線部(7)に関連して、日本で占領期に行われた改革について述べた文として誤っているものを、次の①～④の中から一つ選びなさい。すべて正しい場合は⑤をマークしなさい。解答番号は、

- ① 女性に参政権が認められ、女性の衆議院議員も誕生した。
- ② 労働組合法が制定され、労働運動が公認された。
- ③ 農地改革が行われ、寄生地主制は解体された。
- ④ 財閥解体が行われ、巨大独占企業は国営化された。

問11 下線部(8)について、資本主義陣営(X)・社会主義陣営(Y)と、それぞれに関係のある次の組織 a～d の組み合わせとして誤っているものを、下の①～④の中から一つ選びなさい。解答番号は、11。

- a 経済相互援助会議 (COMECON)
- b 北大西洋条約機構 (NATO)
- c 共産党情報局 (コミンフォルム)
- d ワルシャワ条約機構 (東ヨーロッパ相互援助条約)

- ① X - a
- ② X - b
- ③ Y - c
- ④ Y - d

問12 下線部(9)に関連して、アメリカの対日占領政策について、次の当初の方針ア・イと転換後の方針ウ・エの組み合わせとして正しいものを、下の①～④の中から一つ選びなさい。解答番号は、12。

当初の方針

- ア 日本が軍事的脅威とならないように、民主化を急いだ。
- イ 日本が軍事的脅威とならないように、経済の復興を急いだ。

転換後の方針

- ウ 社会主義陣営の拡大を防ぐため、民主化を急いだ。
- エ 社会主義陣営の拡大を防ぐため、経済の復興を急いだ。

- ① ア・ウ
- ② ア・エ
- ③ イ・ウ
- ④ イ・エ

【2】 タカシさんたちのクラスでは、日本史探究の授業で原始・古代・中世の外交について、それぞれにテーマを決めて発表することになった。それぞれの学習活動に関する次の文A～Cを読んで、後の問いに答えなさい。 (配点 24 点)

A タカシさんは、発表に備えて、弥生時代から飛鳥時代にかけての中国王朝への遣使について調べ、表にまとめた。

時代	中国史書の記録	推測される遣使の目的
弥生時代	<ul style="list-style-type: none"> <li>・ 57 (建武中元 2) 年 倭の ( A ) 国の王、後漢に朝貢。</li> <li>光武帝から印綬を賜る。 <small>(1)</small></li> <li>・ 239 (景初 3) 年 倭の女王、魏に朝貢。 <small>(2)</small></li> </ul>	中国皇帝から王に任じられることによって、他の王より有利な立場に立ちようとした。
古墳時代	<ul style="list-style-type: none"> <li>・ 478 (昇明 2) 年 倭王武、( B ) に朝貢。</li> </ul>	中国皇帝の冊封を受けることにより、朝鮮半島や倭における自らの立場を強化しようとした。
飛鳥時代	<ul style="list-style-type: none"> <li>・ 600 (開皇 20) 年 倭王多利思比孤、隋に朝貢。</li> <li>・ 607 (大業 3) 年 倭王多利思比孤、隋に朝貢。</li> </ul>	( C )

問 1 空欄(A)・(B)に入る語句の組み合わせとして正しいものを、次の①～④の中から選びなさい。解答番号は、13。

- |        |     |        |      |
|--------|-----|--------|------|
| ① A－伊都 | B－宋 | ② A－伊都 | B－北魏 |
| ③ A－奴  | B－宋 | ④ A－奴  | B－北魏 |

問2 下線部(1)は前漢を滅ぼした王莽を倒し、漢王朝を再興した人物である。このことにちなんで、光武帝が王朝再興後に用いた年号は、のちに日本の天皇によって年号として採用されることになる。その人物として正しいものを、次の①～④の中から選びなさい。解答番号は、14。

- ① 天武天皇      ② 桓武天皇      ③ 後三条天皇      ④ 後醍醐天皇

問3 下線部(2)について述べた文として誤っているものを、次の①～④の中から選びなさい。すべて正しい場合は⑤をマークしなさい。解答番号は、15。

- ① 邪馬台国の王であるとともに、小国連合の盟主であったとみられる。  
② 呪術的権威を背景に、政治を行っていたとみられる。  
③ 多くの子どもを産み育て、夫とともに政治に参加させた。  
④ 魏の皇帝から「親魏倭王」の称号を与えられた。

問4 空欄(C)に入る文として最も適当なものを、次の①～④の中から選びなさい。解答番号は、16。

- ① 中国皇帝の冊封を受け、国内で他の勢力より有利な立場に立とうとした。  
② 中国皇帝の冊封を受け、朝鮮半島諸国より有利な立場に立とうとした。  
③ 中国情勢の変化に対応するとともに、国内で他の勢力より有利な立場に立とうとした。  
④ 中国情勢の変化に対応するとともに、朝鮮半島諸国より有利な立場に立とうとした。

B ヒカルさんは、遣唐使停止後の対外関係について調べた内容をメモした。

- ・10世紀に東アジアでは大きな変動が起こり、新しい国（王朝）が生まれたが、<sup>(3)</sup>日本はどの国とも正式な国交を開かなかった。
- ・日本人の海外渡航は律によって禁止されていたが、僧侶には許されることがあり、実際に渡航した僧侶もいた。
- ・九州の博多には、中国商人らが頻繁に来航し（ D ）などをもたらした。<sup>(4)</sup>中国商人のなかには博多に居住する者もいた。
- ・12世紀後半には政権を握った平氏が貿易に関わり、平氏は（ E ）の大輪田泊を修築し貿易の拠点としようとした。

AD1

問5 下線部(3)について述べた文として正しいものを、次の①～④の中から選びなさい。解答番号は、。

- ① 中国では、唐が滅亡した後、分裂状態に陥った。
- ② 中国では、南北朝時代を経て、明が中国を再統一した。
- ③ 中国東北部では、渤海を滅ぼした女真族が遼を建国した。
- ④ 朝鮮半島では、新羅が高麗を滅ぼした。

問6 下線部(4)に関連して、古代・中世に中国に渡航した僧侶について述べた次の文Ⅰ～Ⅲを、古いものから年代順に並べたものを、下の①～⑥の中から選びなさい。解答番号は、。

- Ⅰ 空海は密教を学び、帰国後真言宗を開いた。
- Ⅱ 栄西は帰国後禅を広め、のちに臨済宗の開祖とされた。
- Ⅲ 玄昉は帰国後、聖武天皇に信任されて、政治にも関わった。

- ① Ⅰ→Ⅱ→Ⅲ                      ② Ⅰ→Ⅲ→Ⅱ                      ③ Ⅱ→Ⅰ→Ⅲ
- ④ Ⅱ→Ⅲ→Ⅰ                      ⑤ Ⅲ→Ⅰ→Ⅱ                      ⑥ Ⅲ→Ⅱ→Ⅰ

問7 空欄(D)・(E)に入る語句の組み合わせとして正しいものを、次の①～④の中から選びなさい。解答番号は、19。

- ① D－陶磁器      E－摂津                      ② D－陶磁器      E－河内  
③ D－硫黄        E－摂津                      ④ D－硫黄        E－河内

C ハヤトさんは、モンゴル襲来が日本に与えた影響について調べた内容をまとめ、考察した。

○貿易・外交

- ・鎌倉時代、モンゴル襲来以前には、日中間でさかんに貿易船が往来していた。
- ・モンゴル襲来はあったものの、貿易船は基本的に往来が可能であった。皇帝フビライの死後にはさらに貿易が活発化し、日本からも多くの貿易船が派遣された。<sup>(5)</sup>

●以上のことからモンゴル襲来が貿易に与えた影響は比較的小さかったと考えられる。

○鎌倉幕府の支配

- ・本来、外交は朝廷の管轄であったが、実質的に幕府がモンゴルとの交渉を担った。
- ・モンゴル軍の襲来に対して、幕府指揮下の御家人が奮戦した。<sup>(6)</sup>
- ・九州地方の御家人には異国警固番役が課せられた。これは鎌倉幕府滅亡まで続いた。
- ・文永の役後、再度の襲来に備えて博多湾岸に整備された防塁（石築地）の構築は、御家人だけではなく九州地方の所領所有者にも割り当てられた。
- ・幕府は御家人以外の武士をも動員する権利を、朝廷に認めさせた。

●以上のことから、モンゴル襲来によって（ F ）と考えられる。



【3】 次の文A～Cを読んで、後の問いに答えなさい。(配点 25 点)

A 江戸時代には、幕府や藩は封建体制を維持するための教学として儒学を重視した。特に君臣・父子など上下の秩序を重んじる朱子学派の儒学者は、幕府や藩に仕え統治に関わることもあった。徳川家康に朱子学を講じた( A )の門人であった林羅山は家康に仕え、以後その子孫は代々幕府に仕えたが、羅山の孫にあたる林鳳岡(信篤)は將軍徳川綱吉から( B )に任じられ、湯島聖堂や聖堂学問所を主宰することになった。また朱子学者としては木下順庵・新井白石のほか、南学とよばれた系統からでた山崎闇斎や野中兼山も活躍した。

問1 下線部(1)について述べた文として誤っているものを、次の①～④の中から選びなさい。すべて正しい場合は⑤をマークしなさい。解答番号は、**23**。

- ① 織田信長と同盟関係にあり、長篠の戦いではともに武田勝頼の軍と戦った。
- ② 小牧・長久手の戦いで織田信雄と連合して羽柴(豊臣)秀吉と戦った。
- ③ 豊臣秀吉死後の豊臣政権では、五大老の筆頭として実権を握った。
- ④ 將軍職を子の秀忠に譲り駿府に移った後も、大御所として政治の実権を握りつづけた。

問2 空欄(A)・(B)に入る語句の組み合わせとして正しいものを、次の①～④の中から選びなさい。解答番号は、**24**。

- ① A－桂庵玄樹 B－蔵人頭 ② A－桂庵玄樹 B－大学頭
- ③ A－藤原惺窩 B－蔵人頭 ④ A－藤原惺窩 B－大学頭



問5 下線部(4)に関する書籍と作者の組み合わせとして正しいものを、次の①～④の中から選びなさい。解答番号は、**27**。

- ① 『大和本草』－吉田光由                      ② 『大和本草』－貝原益軒  
③ 『庶物類纂』－吉田光由                      ④ 『庶物類纂』－貝原益軒

問6 空欄(C)・(D)に入る語句の組み合わせとして正しいものを、次の①～④の中から選びなさい。解答番号は、**28**。

- ① C－広益国産考      D－貞享暦                      ② C－広益国産考      D－寛政暦  
③ C－農業全書        D－貞享暦                      ④ C－農業全書        D－寛政暦

問7 下線部(5)について、江戸時代中期以降の蘭学発展のきっかけや背景などに関して述べた文として誤っているものを、次の①～④の中から選びなさい。解答番号は、**29**。

- ① 将軍徳川吉宗が、漢訳洋書の輸入制限を緩和した。  
② 将軍徳川吉宗が、青木昆陽・野呂元丈にオランダ語の習得を命じた。  
③ リーフデ号の乗組員らにより、オランダ語の講習が行われた。  
④ ロシアの南下をきっかけに、世界の地理などに対する関心が広がった。

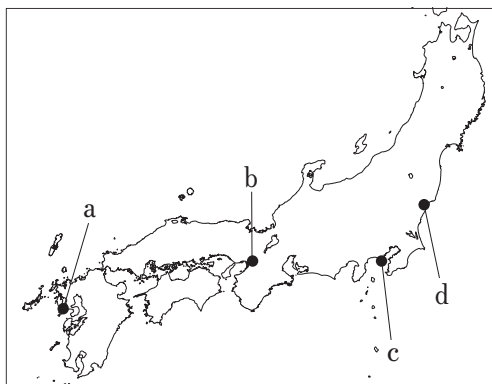
AD1

問 8 下線部(6)について、蘭学者が弾圧された事件に関して述べた次の文 X・Y の「この地」と、下の地図中の位置 a～d の組み合わせとして正しいものを、下の①～④の中から選びなさい。解答番号は、**30**。

X 「この地」で鳴滝塾を開いていたオランダ商館医のシーボルトが帰国の際、持ち出し禁止の日本地図を持っていたために国外追放の処分を受け、さらに、地図を渡した天文方の高橋景保らも処罰された。

Y 日本人漂流民を乗せたアメリカの商船モリソン号が「この地」などで砲撃された事件に関する論評が幕府の対外政策を批判しているとして、高野長英らが処罰された。

AD1



- |         |       |         |       |
|---------|-------|---------|-------|
| ① X - a | Y - c | ② X - a | Y - d |
| ③ X - b | Y - c | ④ X - b | Y - d |

C 江戸時代には国文学の研究もさかんに行われた。徳川家康は古い典籍を収集するとともに、書写や出版にも力を入れた。古典文学の研究が次第にさかんとなり、元禄の頃には戸田茂睡、契沖、北村季吟らが活躍した。これらの古典の実証的研究を基礎に、やがて荷田春満、賀茂真淵を経て、本居宣長が（ E ）国学を大成した。その後、国学の流れからでた（ F ）<sup>(7)</sup>が展開した復古神道は地方の武士や豪農に浸透し、（ G ）の尊王攘夷論とともに幕末期の思想・運動に大きな影響を与えた。

問9 空欄(E)に入る文として最も適当なものを、次の①～④の中から選びなさい。

解答番号は、31。

- ① 日本独自の儒学を研究・確立しようとする
- ② 日本古来の精神を探究・復活しようとする
- ③ 日本語の独自性を追究・確立しようとする
- ④ 日本の古典と中国の古典の共通点を追究しようとする

問10 下線部(7)が著した政治的意見書の一部である次の史料の内容について述べた文として誤っているものを、下の①～④の中から選びなさい。すべて正しい場合は⑤をマークしなさい。解答番号は、32。

百姓町人大勢徒党して、強訴濫放する事は、昔は治平の世には、おさおさうけ給はり及ばぬ事也。近世に成りても、先年はいと稀なる事なりしに、近年は年々所々にこれありて、めづらしからぬ事になれり。……いづれも困窮に迫りて、せんかたなきより起るとはいへども、詮ずる所、上を恐れざるより起れり、……抑此事の起るを考ふるに、いづれも下の非はなくして、皆上の非なるより起れり。今の世百姓町人の心も、あしく成りたりとはいへ共、能々堪がたきに至らざれば此事はおこる物にあらず。……然るに近年此事の所々に多きは、他国の例を聞て、いよいよ百姓の心も動き、又役人の取計ひもいよいよ非なる事多く、困窮も甚しきが故に、一致しやすきなるべし。……近年たやすく一致し固まりて、此事の起りやすきは、畢竟これ人為にはあらず。上たる人、深く遠慮をめぐらさるべきこと也。然りとて、いか程おこらぬやうのかねての防ぎ工夫をなすとも、末をふせぐ計にては、止がたかるべし。兎角その困て起るもとを直さずば有べからず。其本を直すといふは、非理の計ひをやめて、民をいたはる是也。仮令いか程困窮はしても、上の計ひだによろしければ、此事は起る物にあらず。

『秘本玉くしげ』

- ① 百姓一揆は、最近は何件数が減っているが、規模が大きくなっている。
- ② 百姓一揆は、百姓が悪いからではなく、上に立つ者が悪いから起こる。
- ③ 百姓一揆は、困窮に陥った百姓が団結することによって起きる。
- ④ 百姓一揆が起きないようにするためには、上の者が統治の仕方を改める必要がある。

問11 空欄(F)・(G)に入る語句の組み合わせとして正しいものを、次の①～④の中から選びなさい。解答番号は、33。

- ① F－藤田幽谷      G－心学                      ② F－藤田幽谷      G－水戸学  
③ F－平田篤胤      G－心学                      ④ F－平田篤胤      G－水戸学

【4】 次の文A～Gの下線部(1)・(2)について正誤を判断し、次の指示に従って解答しなさい。(配点 21 点)

(1)－正、(2)－正→①をマーク

(1)－正、(2)－誤→②をマーク

(1)－誤、(2)－正→③をマーク

(1)－誤、(2)－誤→④をマーク

A 奈良時代には、仏教によって国家の安定をはかろうとする鎮護国家の思想にもとづいて、政府が<sup>(1)</sup>仏教を保護した。仏教には善行を積むことによって福德を生むという思想があり、社会事業に注力した行基のような僧もあらわれた。聖武天皇の皇后であった<sup>(2)</sup>光明皇后が孤児・病人を收容する悲田院や、医療を行う<sup>(2)</sup>施薬院を設けたのも仏教思想の影響であった。解答番号は、34。

B 鎌倉時代初めに起こった仏教の改革運動のなかで、南都六宗など旧仏教側の僧侶たちは戒律を重んじるとともに、病人の救済などに取り組んだ。華嚴宗の僧である<sup>(1)</sup>忍性はらい病（ハンセン病）患者の救済施設として、京都に北山十八間戸を<sup>(2)</sup>設け、さらに幕府の支援を受けて鎌倉でも社会事業を行った。解答番号は、35。

C 戦国時代末期に中国人商人の船で山口に来航し<sup>(1)</sup>布教を開始したフランシスコ＝ザビエル以降、日本でキリスト教の布教を行ったイエズス会の宣教師たちは、西洋の医学知識を利用して病気の治療を行うことで、人々の信頼を獲得し信者を増やしていった。一方、来日したガスパル＝ヴィレラは、將軍足利義輝の許可を得て主に畿内で布教し、イエズス会への手紙で堺の状況を報告した。<sup>(2)</sup> 解答番号は、36。

D 江戸時代には幕府や藩により社会事業が行われた。特徴的なものとしては、寛政<sup>(1)</sup>の改革時に目安箱への投書の意見によって設置された小石川養生所がある。また視点は異なるが、天保の改革時に犯罪者の自立支援施設として設けられた石川島人足寄場も治安対策であるとともに、個人の救済をめざしたものといえる。

解答番号は、37。


E 江戸時代後期には、オランダ語を学習するとともに西洋の学術・知識を吸収し研究しようとする蘭学がさかんになったが、特に医学では前野良沢・杉田玄白らによるア<sup>(1)</sup>の出版などが行われ、その有用性が確認された。またオランダ語の学習入門書として大槻玄沢のイや初步的な辞書として稲村三伯による『ハルマ和解』が<sup>(2)</sup>つくれた。

解答番号は、38。

ア



イ



F 明治時代には、政府による救貧制度として1874年に規則が制定され、極貧者などを対象として米代を支給する制度が定められた。大正時代には、工業の発達などを背景にさまざまな社会運動が高揚し、杉山元治郎とともに全国水平社を設立した<sup>(1)</sup>ことで知られる賀川豊彦のように、救貧運動などさまざまな社会事業に取り組む人々もみられた。政府側の動きとしては、富山県での女性たちの行動が報道された<sup>(2)</sup>ことで各地に拡大したとされる米騒動などをきっかけに内務省に社会局が設置され、1929年には規則にかわって救護法が制定されて救済対象が大幅に拡大され、現在の生活保護の原型ができた。

解答番号は、39。

G 昭和時代前期には、戦時体制が強まるなかで日中戦争開戦後の1938年に国民体力の増強などを目的に、社会福祉や社会保障のほか、公衆衛生の向上・増進に関する国の行政を担当する行政機関として厚生省が設置された。戦後には、社会福祉・社会保障制度は次第に拡充されていったが、ベトナム戦争勃発を契機として発生した<sup>(1)</sup>第1次石油危機が起こった1973年には、老人医療費無料制度の創設、健康保険料の被扶養者の給付率の引き上げ、年金給付水準の大幅引き上げなど、社会保障制度が大きく拡充され、政府によりこの年は「福祉元年」と宣言された。

解答番号は、40。

