

2025年度 学力検査

AE1

「歴史総合，世界史探究」

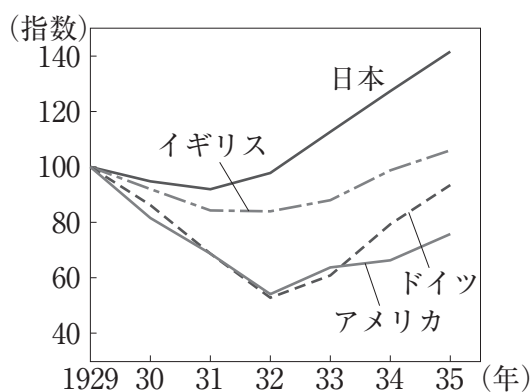
解答番号 ～

【1】 マコトさんのクラスでは、「歴史総合」の授業で、第二次世界大戦前後の世界や日本の動向について、それぞれ主題を設定して探究することになった。その学習活動に関する次のⅠ～Ⅲを読んで、あとの各問いに答えなさい。（配点 30 点）

Ⅰ 授業の中で、第二次世界大戦が起こった背景として世界恐慌に注目する必要があるという話を聞いたマコトさんは、「世界恐慌での各国の状況や対応」をテーマとして学習活動を行った。マコトさんは自分の調べた結果や考察などについて、同じ班のナナミさん・ヒロミさんと話し合った。

資料 1

○世界恐慌中の主要国鉱工業生産指数の推移（1929 年を 100 とする）



『明治以降本邦主要経済統計』より

マコト：世界恐慌が与えた影響を考えるための材料としてグラフ（資料 1）を持ってきたんだけど、まずこのグラフからどんなことが読み取れるかな。

ナナミ： と の落ち込みが大きいね。 はそれまで繁栄していたから反動が大きかったんじゃないかな。 は に経済的に依存していたから影響が大きかったんだろうね。

ヒロミ：日本はこの時期、世界恐慌や の影響で昭和恐慌に陥って不景気のどん底に沈んでしまったというイメージを持っていたけど、他の国のほうがもっとひどかったんだね。

ナナミ：日本は恐慌からの回復が他国より早かったということは前に学習したことが
⁽¹⁾
あったけど、そのことが読み取れるね。

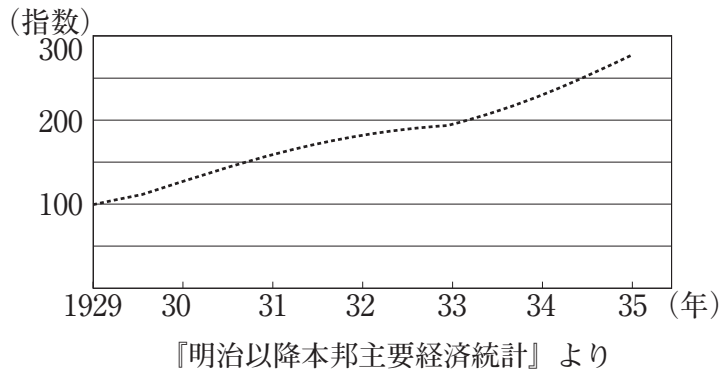
マコト：世界恐慌が起こる前までは、第一次世界大戦に対する反省から、国際協調体
⁽²⁾
制が維持されていたけど、恐慌後にはどの国も、世界全体のことより自分の
国を優先するようになっていくんだよ。植民地をたくさん持っている国がブ
ロック経済政策を採用するなど、世界各国が自国の経済を守るためにとった
保護主義的な政策が経済的な対立を加速させ、第二次世界大戦の一つの背景
⁽³⁾
になったという議論があるんだけど、今回調べてみて、まさにそうだと思っ
たね。

AE1

問1 会話文中の ～ に入る語句の組み合わせとして正しいも
のを、次の①～④の中から一つ選びなさい。解答番号は、。

- ① A － アメリカ
B － ドイツ
C － 金輸出解禁
- ② A － アメリカ
B － ドイツ
C － 金輸出再禁止
- ③ A － ドイツ
B － アメリカ
C － 金輸出解禁
- ④ A － ドイツ
B － アメリカ
C － 金輸出再禁止

問2 下線部(1)について、実際には恐慌の影響をほとんど受けず生産を伸ばした国もあった。次のグラフは資料1と同じ時期の別の国のデータ（1929年を100とする）を示したものである。これに該当する国X・Yと、この国が鉱工業生産を伸ばした要因a～cの組み合わせとして正しいものを、下の①～⑥の中から一つ選びなさい。解答番号は、2。



X 中国（中華民国） Y ソ連（ソヴィエト社会主義共和国連邦）

a 五カ年計画の実施 b ドイモイの実施 c ペレストロイカの実施

- ① X - a ② X - b ③ X - c
 ④ Y - a ⑤ Y - b ⑥ Y - c

AE1

問3 下線部(2)に関連して、第一次世界大戦後に構築された国際協調体制について述べた次の文XとYの正誤の組み合わせとして正しいものを、下の①～④の中から一つ選びなさい。解答番号は、3。

X 国際平和機構として国際連盟が設立され、本部がニューヨークに置かれた。

Y フランスとアメリカ合衆国の提唱で、国際紛争解決の手段としての戦争を放棄することを約した不戦条約が締結された。

- ① X - 正 Y - 正 ② X - 正 Y - 誤
③ X - 誤 Y - 正 ④ X - 誤 Y - 誤

問4 下線部(3)に対する反省から、第二次世界大戦後には安定的な国際通貨体制をつくり世界経済を発展させることを目指す体制が構築されていった。このことに関連する次の語句X・Yと、それぞれについて述べた文a～dの組み合わせとして正しいものを、下の①～④の中から一つ選びなさい。解答番号は、4。

X 金ドル本位制（ブレトン=ウッズ体制）

Y 関税及び貿易に関する一般協定（GATT）

- a 金との交換率が固定されたドルを基軸通貨とし、ドルと各国通貨の交換比率を固定した。
b この体制は、1990年代にアメリカが金とドルの交換を停止したことで崩壊した。
c 国際収支が悪化した国を支援することなどを、主な目的としていた。
d 日本は独立回復後の1950年代に加盟した。

- ① X - a Y - c ② X - a Y - d
③ X - b Y - c ④ X - b Y - d

Ⅱ ナナミさんは、第二次世界大戦について学習する中で、戦争の枠組みや戦局が途中で転換したことに注目した。そこで、「第二次世界大戦の転換点」をテーマに、転換する契機となった出来事などについて考えるために、年表を作成した。

年表

ヨーロッパの動向	年	アジアの動向
ドイツ、ポーランドに侵攻	1939	
ア	1940	エ
独ソ戦開始 (4)	1941	太平洋戦争開戦
イ	1942	オ ミッドウェー海戦
スターリングラードの戦い	1943	カ
ウ	1944	サイパン島陥落 (5)
ドイツ降伏	1945	キ 日本降伏

AE1

問5 ナナミさんが年表にあげた出来事以外に、ヨーロッパの動向の転換点の候補として考えた次の二つの出来事X・Yと、その出来事の年表中の時期 ～ の組み合わせとして正しいものを、下の①～④の中から一つ選びなさい。解答番号は、。

X パリ陥落（フランス降伏） Y 連合軍ノルマンディー上陸

- ① X - ア Y - イ ② X - ア Y - ウ
③ X - イ Y - イ ④ X - イ Y - ウ

問6 年表中の ～ の時期における日本国内の動向に関して述べた文として誤っているものを、次の①～④の中から一つ選びなさい。すべて正しい場合は⑤をマークしなさい。解答番号は、。

- ① の時期には、大政翼賛会が発足した。
② の時期には、治安維持法が制定された。
③ の時期には、大東亜会議が開催された。
④ の時期には、東京大空襲で甚大な被害を被った。

問7 下線部(4)について、独ソ戦が始まる前に日本とソ連の間で結ばれた日ソ中立条約に調印した日本の外務大臣と、当時のソ連の最高権力者の組み合わせとして正しいものを、次の①～④の中から一つ選びなさい。解答番号は、。

- ① 幣原喜重郎 - レーニン ② 幣原喜重郎 - スターリン
③ 松岡洋右 - レーニン ④ 松岡洋右 - スターリン

問8 下線部(5)について、サイパン島は日本の委任統治下にあった南洋諸島に属していたが、南洋諸島の一部を日本が占領した戦争と、その地域が日本の委任統治領となった条約の組み合わせとして正しいものを、次の①～④の中から一つ選びなさい。

解答番号は、8。

- ① 日露戦争 — 四カ国条約
- ② 日露戦争 — ヴェルサイユ条約
- ③ 第一次世界大戦 — 四カ国条約
- ④ 第一次世界大戦 — ヴェルサイユ条約

AE1

Ⅲ ヒロミさんは、国内総生産（GDP）で日本がドイツに抜かれたというニュースを聞き、「第二次世界大戦に敗れたドイツと日本は、戦後どのような状況に置かれたか」に興味を持ち、調べることにした。

ヒロミさんのまとめ

第二次世界大戦の敗戦国であるドイツと日本は、大戦後、連合国に占領され、⁽⁶⁾
民主化や非軍事化をはかる占領政策のもとで改革が行われた。しかし、資本主⁽⁸⁾
義陣営と社会主義陣営の対立が強まる中で、⁽⁷⁾ドイツでは国家の分断が固定化し、
日本では占領政策が変更されていった。日本は、変更された路線を歩みつつ独⁽⁹⁾
立を回復し、今日に至るまでアジアにおけるアメリカ合衆国の友好国として歩
んできた。一方、ドイツは40年にわたる分断を経て統一され、ヨーロッパの中
心的国家として発展した。

問9 下線部(6)に関連して、ドイツと日本それぞれの占領方式などについて述べた次の文 a～dのうち、正しいものの組み合わせを、下の①～④の中から一つ選びなさい。解答番号は、

- a ドイツは、西側をアメリカに、東側をソ連に分割占領された。
- b ドイツは、連合国側の直接統治のもとに置かれた。
- c 日本の占領は、事実上、アメリカ軍による単独占領であった。
- d 日本の統治には、対日理事会の指令・勧告に基づいて日本政府が政治を行う間接統治の方法がとられた。

- ① a・c ② a・d ③ b・c ④ b・d

問10 下線部(7)に関連して、日本で占領期に行われた改革について述べた文として誤っているものを、次の①～④の中から一つ選びなさい。すべて正しい場合は⑤をマークしなさい。解答番号は、

- ① 女性に参政権が認められ、女性の衆議院議員も誕生した。
- ② 労働組合法が制定され、労働運動が公認された。
- ③ 農地改革が行われ、寄生地主制は解体された。
- ④ 財閥解体が行われ、巨大独占企業は国営化された。

問11 下線部(8)について、資本主義陣営(X)・社会主義陣営(Y)と、それぞれに関係のある次の組織 a～d の組み合わせとして誤っているものを、下の①～④の中から一つ選びなさい。解答番号は、11。

- a 経済相互援助会議 (COMECON)
- b 北大西洋条約機構 (NATO)
- c 共産党情報局 (コミンフォルム)
- d ワルシャワ条約機構 (東ヨーロッパ相互援助条約)

- ① X — a
- ② X — b
- ③ Y — c
- ④ Y — d

問12 下線部(9)に関連して、アメリカの対日占領政策について、次の当初の方針ア・イと転換後の方針ウ・エの組み合わせとして正しいものを、下の①～④の中から一つ選びなさい。解答番号は、12。

当初の方針

- ア 日本が軍事的脅威とならないように、民主化を急いだ。
- イ 日本が軍事的脅威とならないように、経済の復興を急いだ。

転換後の方針

- ウ 社会主義陣営の拡大を防ぐため、民主化を急いだ。
- エ 社会主義陣営の拡大を防ぐため、経済の復興を急いだ。

- ① ア・ウ
- ② ア・エ
- ③ イ・ウ
- ④ イ・エ

問 8 下線部(8)に関し、白蓮教徒が引き起こした農民反乱である紅巾の乱をきっかけに、元が大都を追われてモンゴル高原に移動した。元について述べた次の文 a と b の正誤の組み合わせとして正しいものを、下の①～④の中から一つ選びなさい。

解答番号は、20。

a 元（大元）を国号としたクビライ（フビライ）は、日本やジャワ島などへの遠征を行った。

b 李時珍が作成した授時暦は、日本にも伝わり改良された。

① a — 正 b — 正 ② a — 正 b — 誤

③ a — 誤 b — 正 ④ a — 誤 b — 誤

【3】 次の年表は、イギリスのエリザベス1世とスペインのフェリペ2世に関するものである。これを見て、あとの各問いに答えなさい。(配点 25 点)

エリザベス1世	フェリペ2世
1533 <u>ヘンリ8世</u> を父、アン=ブーリンを母として誕生 ⁽²⁾	1527 <u>神聖ローマ皇帝カール5世</u> を ⁽¹⁾ 父、イサベラを母として誕生
1558 (3)-a 死去により王位継承 →フェリペ2世の求婚を拒絶	1554 イギリス女王 (3)-a と結婚 1556 父よりスペイン王位を継承 1558 妻 (3)-a が死去 →エリザベス1世に求婚
1559 <u>統一法</u> を制定 ⁽⁴⁾	1559 <u>対立中のフランスと講和</u> ⁽⁵⁾ →フランス王女と結婚
1570 ローマ教皇に破門される	1561 マドリードに遷都 1568 宗教政策を背景にオランダ独立戦争勃発
1588 <u>無敵艦隊(アルマダ)</u> を撃破 ⁽⁶⁾	1571 (3)-b の海戦で勝利 1580 ポルトガルを併合 1588 無敵艦隊(アルマダ)を派遣 1598 死去。フェリペ3世が即位
1600 <u>東インド会社</u> を創設 ⁽⁷⁾	
1603 死去により <u>テューダー朝</u> 断絶 ⁽⁸⁾	

AE1

問1 下線部(1)に関し、カール5世の神聖ローマ皇帝在位時(1519～56年)に起こった出来事として誤っているものを、次の①～④の中から一つ選びなさい。

解答番号は、**21**。

- ① オスマン軍が、第1次ウィーン包囲を行った。
- ② ピサロが、インカ帝国を滅ぼした。
- ③ ヌルハチが、後金を建国した。
- ④ バーブルが、ムガル帝国を建国した。

問2 下線部(2)に関し、ヘンリ8世の離婚に反対して処刑されたトマス=モアの著作として正しいものを、次の①～④の中から一つ選びなさい。解答番号は、**22**。

- ① 『ガルガンチュアとパンタグリユエルの物語』
- ② 『カンタベリ物語』
- ③ 『ハムレット』
- ④ 『ユートピア』

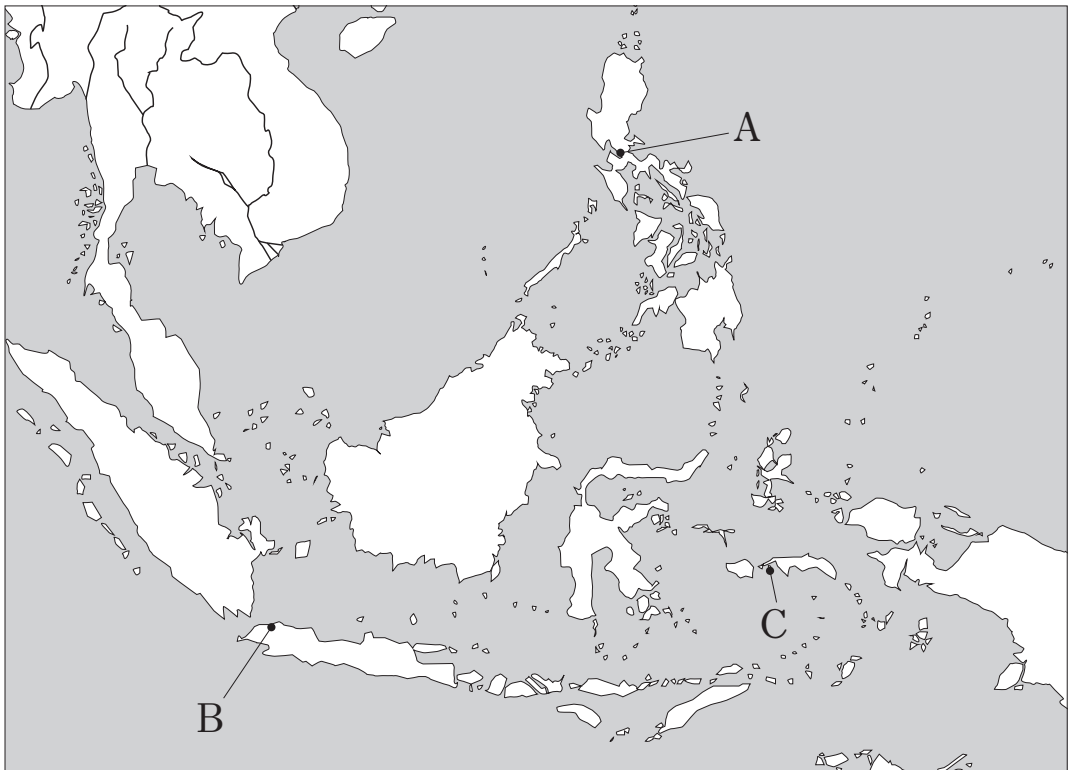
問3 年表中の **(3)－a** **(3)－b** に入る語句の組み合わせとして正しいものを、次の①～④の中から一つ選びなさい。解答番号は、**23**。

- ① a － メアリ1世 b － プレヴェザ
- ② a － メアリ1世 b － レパント
- ③ a － メアリ2世 b － プレヴェザ
- ④ a － メアリ2世 b － レパント

問7 下線部(7)に関し、次の文章は、下の地図について述べたものである。文章中の

ウ エ に入る語句の組み合わせとして正しいものを、あとの①～⑥の中から一つ選びなさい。解答番号は、**27**。

イギリス東インド会社は、東南アジアへの進出をはかった。しかし、1623年、アンボイナ（地図中 **ウ** ）において、商館員がオランダ人によって多数殺害され、この事件を機にイギリスは東南アジアから駆逐された。アンボイナを含むマルク（モルッカ）諸島は、**エ** の有力な産地であった。



- ① ウ - A エ - 香辛料
- ② ウ - A エ - 銀
- ③ ウ - B エ - 香辛料
- ④ ウ - B エ - 銀
- ⑤ ウ - C エ - 香辛料
- ⑥ ウ - C エ - 銀

【4】 歴史上の党派・政党に関する次のA～Jの（ア）・（イ）の文を読んで、

（ア）・（イ）のいずれも正しいものには……………①

（ア）が正しくて（イ）が間違っているものには……………②

（ア）が間違っていて（イ）が正しいものには……………③

（ア）・（イ）のいずれも間違っているものには……………④

と答えなさい。

（配点 20 点）

A 古代ローマの党派

解答番号は、29。

（ア）：閥族派は元老院による伝統的な支配を重んじた。

（イ）：閥族派の代表的な人物としてスラがいる。

B 党派間の抗争がみられた中世イタリア

解答番号は、30。

（ア）：教皇党（ゲルフ）と皇帝党（ギベリン）が対立した。

（イ）：ジェノヴァ共和国・フィレンツェ共和国などの都市国家が繁栄した。

C 明末の党争

解答番号は、31。

（ア）：東林派と非東林派が党争を繰り広げた。

（イ）：党争の背景には、王安石による改革があった。

D イギリスの革命における党派

解答番号は、32。

（ア）：王党（宮廷）派はクロムウェルを指導者とした。

（イ）：議会（地方）派にはピューリタンが多かった。

E アメリカ合衆国の党派・政党

解答番号は、33。

（ア）：連邦共和国として正式に発足した時から、連邦派と反連邦派（州権派）の対立がみられた。

（イ）：北部では奴隷制への反対を掲げて民主党が発足した。

F フランス革命における党派

解答番号は、**34**。

(ア)：国民議会では立憲君主派が主導権をにぎった。

(イ)：国民公会では急進共和派が主導権をにぎった。

G 近代イギリスの政党

解答番号は、**35**。

(ア)：ディズレーリが率いる保守党とグラッドストーンが率いる自由党が交代で政権を担った。

(イ)：ロイド＝ジョージは労働党党首として初めて首相となった。

H 朝鮮の開化派（独立党）

解答番号は、**36**。

(ア)：金玉均らが中心であった。

(イ)：日本と結んで閔氏政権の打倒をはかった。

I インドの国民会議派

解答番号は、**37**。

(ア)：カルカッタ大会を機に親英的な路線に転換した。

(イ)：ガンディーが初代インド連邦首相となった。

J 第二次世界大戦後の台湾の政党

解答番号は、**38**。

(ア)：国民党政権は、天安門事件と呼ばれる武力弾圧を行った。

(イ)：総統選挙の結果、国民党から民進党への政権交代が起こった。

AE1